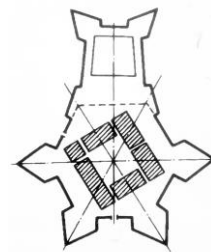


ОСНОВИ МІСТОБУДУВАННЯ (ІІІ КУРС)

1. Що означає поняття «урбанізація»?
2. Що означає поняття «урбанізм»?
3. Які функції концентрує міське поселення?
4. Які функції концентрує сільське поселення?
5. Які категорії міст відносяться до класифікації за народногосподарським профілем?
6. Які категорії міст відносяться до класифікації за адміністративно-політичним значенням?
7. Які категорії міст відносяться до класифікації за кількістю населення?
8. До якої категорії міст за кількістю населення відноситься Івано-Франківськ?
9. Переваги компактної структури плану міста:
10. Переваги лінійної структури плану міста:
11. Функціональне зонування території міста – це
12. Генеральний план міста – це
13. Функціональна зона – це
14. Які основні функціональні зони міста?
15. Сельбищна територія міста – це
16. Які основні структурні елементи сельбищної території міста?
17. Яка характеристика визначає житловий район?
18. Які граничні показники доступності до об'єктів надання послуг населенню в житловому районі?
19. Які граничні показники доступності до об'єктів надання послуг населенню в мікрорайоні?
20. Основні функціональні зони мікрорайону:
21. Що означає поняття "червона лінія"?
22. Що означає поняття «лінія забудови»?
23. Садибна забудова - це
24. Житлова група - це
25. Які ознаки характеризують периметральну забудову?
26. Які ознаки характеризують центр населеного пункту?
27. Як розрізняють громадські центри міста за функціональним змістом?
28. Як розрізняють громадські центри населеного пункту за планувальною структурою?
29. Які громадські центри відносяться до категорії спеціалізованого призначення?
30. Де на території міста розміщують громадські заклади районного і мікрорайонного значення?
31. Транспортна інфраструктура - це
32. У яких групах поселень застосовуються магістральні вулиці і дороги безперервного руху?
33. Яке призначення магістральних вулиць загальноміського значення регульованого руху?

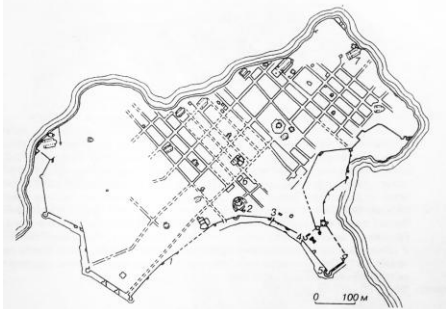
34. Яке призначення головних площ у місті?
35. Яке призначення площ перед великими громадськими об'єктами?
36. Яке призначення площ перед ринками в містах?
37. Пішохідна зона - це
38. Бульвар - це
39. Які нормативні відстані примикання проїздів до магістральних вулиць регульованого і безперервного руху?
40. На якій віддалі передбачаються один від одного наскрізні проїзди при лінійній забудові?
41. На якій віддалі передбачаються один від одного наскрізні проїзди при периметральній забудові?
42. Які схеми основних проїздів використовуються для організації руху транспорту в мікрорайоні?
43. Основний проїзд в мікрорайоні - це
44. Другорядний проїзд в мікрорайоні - це
45. Які нормативи довжини тупикового проїзду?
46. Які нормативи віддалі від багатопверхових житлових будинків до проїздів?
47. Які нормативи віддалі від житлових будинків підвищеної поверховості до проїздів?
48. Від яких факторів залежить віддаль від автостоянок до житлових будинків?
49. Які промислові підприємства можна розмістити на території сельбищної зони міста?
50. Які промислові підприємства розміщують біля меж сельбищної території міста?
51. Які промислові райони необхідно розташовувати на віддалі від сельбищної території міста не менше 10 км?
52. Санітарно-захисна зона – це
53. Санітарний розрив – це
54. Яке розташування складських зон в місті вважається найбільш раціональним?
55. Які функції приміської зони?
56. Функції озелених територій в місті:
57. Які міські парки відносяться до багатофункційних?
58. Призначення етнографічних парків–
59. Призначення ботанічних садів–
60. Які елементи міської системи озеленення розташовуються тільки в значних і найбільших містах?
61. Які нормативи віддалі від майданчиків для виховання домашніх тварин до вікон житлового будинку та майданчиків для ігор, відпочинку і занять фізкультурою?
62. Які нормативи віддалі від наземних майданчиків для роздільного збирання побутових відходів до вікон житлових будинків?

63. Які нормативи віддалі від майданчиків для господарських цілей до входу в житловий будинок?
64. МАФи – це
65. Які нормативи побутових розривів між фасадами з вікнами багатосекційних житлових будинків заввишки в 4 поверхи?
66. Які нормативи побутових розривів між фасадами з вікнами багатосекційних житлових будинків заввишки в 2-3 поверхи?
67. На якій віддалі слід розмістити багатоквартирні житлові будинки на генплані, якщо за розрахунком інсоляції віддаль між ними становить 18м, із врахуванням протипожежних вимог - 6м, побутових розривів - 20м?
68. Вертикальне планування території - це
69. Які завдання вирішує вертикальне планування?
70. Який показник характеризує інтенсивність освоєння житлової території?
71. Які основні санітарно-гігієнічні вимоги висуваються до житлової забудови?
72. Які основні протипожежні вимоги висуваються до житлової забудови?
73. Які основні чинники, що впливають на економічність забудови?
74. Які переваги малоповерхової житлової забудови порівняно із багатоповерховою?
75. Які недоліки малоповерхової житлової забудови порівняно із багатоповерховою?
76. Які переваги багатоповерхової житлової забудови порівняно із малоповерховою?
77. Які недоліки багатоповерхової житлової забудови порівняно із малоповерховою?
78. Які переваги в поєднанні житлової забудови різної поверховості у житловому комплексі?

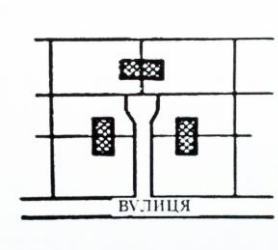
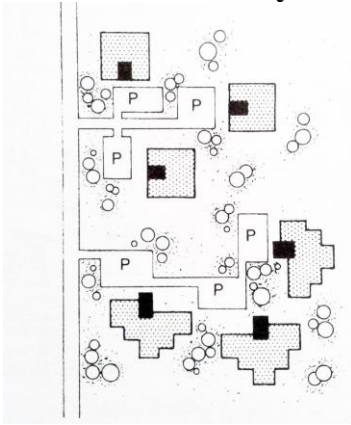


79. Вкажіть, план якого міста зображено на малюнку.


80. Вкажіть, план міста якого періоду заснування зображено на малюнку.



81. Вкажіть тип забудови багатоквартирними житловими будинками.



82. Вкажіть тип розташування житлових будинків.

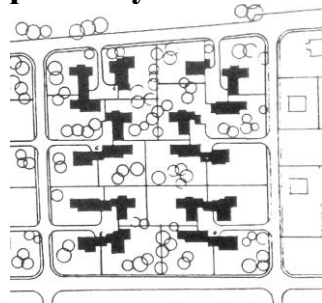


83. Вкажіть, який будинок зображений на малюнку.

84. Вкажіть тип багатоквартирного житлового будинку за умовною висотою.



85. Яку схему розташування малоповерхових житлових будинків зображено на



малюнку?

86. Вкажіть тип забудови житловими будинками.

